

**EGZAMIN MATURALNY
W ROKU SZKOLNYM 2019/2020**

MATEMATYKA

POZIOM PODSTAWOWY

FORMUŁA OD 2015

(„NOWA MATURA”)

ZASADY OCENIANIA ROZWIĄZAŃ ZADAŃ

ARKUSZ MMA-P1A1P-203

CZERWIEC 2020

Egzaminatorze!

- Oceniaj prace zdających uczciwie i z zaangażowaniem.
- **Stosuj przyjęte zasady oceniania w sposób obiektywny.** Pamiętaj, że każda merytorycznie poprawna odpowiedź, spełniająca warunki określone w poleceniu, musi zostać pozytywnie oceniona, nawet jeżeli nie została przewidziana w przykładowych odpowiedziach w zasadach oceniania.
- Konsultuj niejednoznaczne rozwiązania zadań z innymi egzaminatorami lub przewodniczącym zespołu egzaminatorów. W przypadku niemożności osiągnięcia wspólnego stanowiska, rozstrzygajcie na korzyść zdającego.
- Przyznając punkty, nie kieruj się emocjami.
- Informuj przewodniczącego o wszystkich nieprawidłowościach zaistniałych w trakcie oceniania, w tym podejrzeń o niesamodzielność w pisaniu pracy.

Wersja A

Nr zad.	1	2	3	4	5	6	7	8	9	10	11	12	13	14	15	16	17	18	19	20	21	22	23	24	25
Odp.	C	B	C	D	A	B	C	A	D	A	B	B	D	B	D	A	B	D	A	C	D	D	C	B	B

Zadanie 1. (0–1)

Zadanie 2. (0–1)

Zadanie 3. (0–1)

Zadanie 4. (0–1)

Zadanie 5. (0–1)

Zadanie 6. (0–1)

Zadanie 7. (0–1)

Zadanie 8. (0–1)

Zadanie 9. (0–1)

Zadanie 10. (0–1)

Zadanie 11. (0–1)

Zadanie 12. (0–1)

Zadanie 13. (0–1)

Zadanie 14. (0–1)

Zadanie 15. (0–1)

Zadanie 16. (0–1)

Zadanie 17. (0–1)

--	--	--	--

Zadanie 18. (0–1)

Zadanie 19. (0–1)

Zadanie 20. (0–1)

Zadanie 21. (0–1)

Zadanie 22. (0–1)

Zadanie 23. (0–1)

--	--	--	--

--	--	--	--

Zadanie 24. (0–1)

Zadanie 25. (0–1)

Zadanie 26. (0–2)

Rozwiąż nierówność $(2x+5)(3x-1) \geq 0$.

Zadanie 26. (0–2)

--	--

Rozwiązanie

Rozwiązanie nierówności kwadratowej składa się z dwóch etapów.

Pierwszy etap rozwiązania polega na wyznaczeniu pierwiastków trójmianu kwadratowego $(2x+5)(3x-1)$.

Znajdujemy pierwiastki trójmianu kwadratowego $6x^2 + 13x - 5$:

- podajemy je bezpośrednio z postaci iloczynowej: $x_1 = -\frac{5}{2}$, $x_2 = \frac{1}{3}$

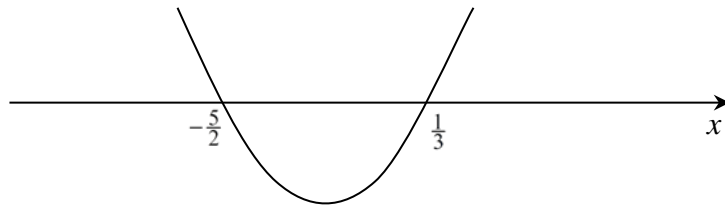
albo

- obliczamy wyróżnik tego trójmianu, a następnie stosujemy wzory na pierwiastki:

$$\Delta = 13^2 - 4 \cdot 6 \cdot (-5) = 289, \sqrt{\Delta} = 17, x_1 = \frac{-13-17}{12} = -\frac{5}{2}, x_2 = \frac{-13+17}{12} = \frac{1}{3}.$$

Drugi etap rozwiązania polega na wyznaczeniu zbioru rozwiązań nierówności $(2x+5)(3x-1) \geq 0$.

Podajemy zbiór rozwiązań nierówności: $(-\infty, -\frac{5}{2}) \cup \langle \frac{1}{3}, +\infty)$ lub $x \in (-\infty, -\frac{5}{2}) \cup \langle \frac{1}{3}, +\infty)$ lub $(x \leq -\frac{5}{2}$ lub $x \geq \frac{1}{3})$, np. odczytując go ze szkicu wykresu funkcji $f(x) = 6x^2 + 13x - 5$.



Schemat oceniania

Zdający otrzymuje 1 p.

gdy:

- zrealizuje pierwszy etap rozwiązania i na tym zakończy lub błędnie zapisze zbiór rozwiązań nierówności, np.
 - obliczy lub poda pierwiastki trójmianu kwadratowego $x_1 = -\frac{5}{2}$, $x_2 = \frac{1}{3}$ i na tym zakończy lub błędnie zapisze zbiór rozwiązań nierówności,
 - zaznaczy na wykresie miejsca zerowe funkcji $f(x) = 6x^2 + 13x - 5$ i na tym zakończy lub błędnie zapisze zbiór rozwiązań nierówności

albo

- realizując pierwszy etap błędnie wyznaczy pierwiastki (ale otrzyma dwa różne pierwiastki) i konsekwentnie do tego rozwiąże nierówność, np. popełni błąd rachunkowy przy obliczaniu wyróżnika lub pierwiastków trójmianu kwadratowego i konsekwentnie do popełnionego błędu rozwiąże nierówność.

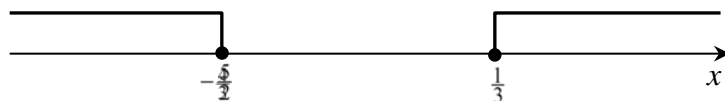
Zdający otrzymuje 2 p.

gdy:

- poda zbiór rozwiązań nierówności: $(-\infty, -\frac{5}{2}) \cup \langle \frac{1}{3}, +\infty)$ lub $x \in (-\infty, -\frac{5}{2}) \cup \langle \frac{1}{3}, +\infty)$
lub $(x \leq -\frac{5}{2}$ lub $x \geq \frac{1}{3})$

albo

- poda zbiór rozwiązań nierówności w postaci graficznej z poprawnie zaznaczonymi końcami przedziałów



Uwagi

1. Jeżeli zdający popełnia błąd w przepisywaniu nierówności, np. zapisze $(2x - 5)(3x - 1) \geq 0$, to może otrzymać **1 punkt**, jeśli konsekwentnie rozwiąże zadanie do końca.
2. Jeżeli zdający rozwiązuje układ nierówności $2x + 5 \geq 0$ i $3x - 1 \geq 0$ i nie rozpatruje układu $2x + 5 \leq 0$ i $3x - 1 \leq 0$, to może otrzymać **1 punkt** za poprawne wyznaczenie pierwiastków $-\frac{5}{2}$ i $\frac{1}{3}$.
3. Zapisanie przedziału domkniętego w nieskończoności traktujemy jako usterkę nie powodującą utraty punktów.

Kryteria oceniania uwzględniające specyficzne trudności w uczeniu się matematyki

1. Akceptujemy sytuację, gdy zdający poprawnie obliczy lub poda pierwiastki trójmianu $x_1 = -\frac{5}{2}$ i $x_2 = \frac{1}{3}$ i zapisze, np., $x \in \left(-\infty, -\frac{5}{2}\right) \cup \left(-\frac{1}{3}, +\infty\right)$ popełniając tym samym błędy przy przepisywaniu pierwiastków, to za takie rozwiązanie otrzymuje **2 punkty**.
2. Jeśli zdający pomyli porządek liczb na osi liczbowej, np. zapisze zbiór rozwiązań nierówności w postaci $x \in \left(-\infty, \frac{1}{3}\right) \cup \left(-\frac{5}{2}, +\infty\right)$, to przyznajemy **2 punkty**.

Zadanie 27. (0–2)

Dane są liczby $a = 3\log_2 12 - \log_2 27$ i $b = (\sqrt{6} - \sqrt{7})(3\sqrt{6} + 3\sqrt{7})$. Wartością $a - b$ jest liczba całkowita. Oblicz tę liczbę.

Zadanie 27. (0–2)

--	--

Rozwiązanie

Korzystając z własności działań na logarytmach otrzymujemy

$$a = 3\log_2 12 - \log_2 27 = 3\log_2 12 - 3\log_2 3 = 3(\log_2 12 - \log_2 3) = 3\log_2 4 = 6.$$

Wykorzystując wzór skróconego mnożenia obliczamy liczbę b

$$b = (\sqrt{6} - \sqrt{7})(3\sqrt{6} + 3\sqrt{7}) = 3(\sqrt{6} - \sqrt{7})(\sqrt{6} + \sqrt{7}) = 3 \cdot (-1) = -3.$$

A zatem liczba a jest większa od liczby b o 9.

Schemat oceniania

Zdający otrzymuje 1 p.
gdy obliczy liczbę $a = 6$ albo liczbę $b = -3$ i na tym poprzestanie lub dalej popełni błędy.

Zdający otrzymuje 2 p.
gdy poda, że liczba a jest większa od liczby b o 9.

Zadanie 28. (0–2)

Wykaż, że jeśli liczby rzeczywiste a i b spełniają warunek $a < 4$ i $b < 4$, to $ab + 16 > 4a + 4b$.

Zadanie 28. (0–2)

--	--

Rozwiązanie zadania

Nierówność $ab + 16 > 4a + 4b$ możemy zapisać w postaci równoważnej

$$ab - 4a - 4b + 16 > 0,$$

$$a(b - 4) - 4(b - 4) > 0,$$

$$(a - 4)(b - 4) > 0.$$

Ta nierówność jest prawdziwa, gdyż liczby $a - 4$ i $b - 4$ są ujemne, co z kolei wynika z założenia $a < 4$ i $b < 4$, zaś iloczyn dwóch liczb ujemnych jest liczbą dodatnią. To kończy dowód.

Schemat oceniania

Zdający otrzymuje 1 p.

gdy przekształci nierówność $ab + 16 > 4a + 4b$ do postaci iloczynowej np. $(a - 4)(b - 4) > 0$ i na tym zakończy lub dalej popełnia błędy.

Zdający otrzymuje 2 p.

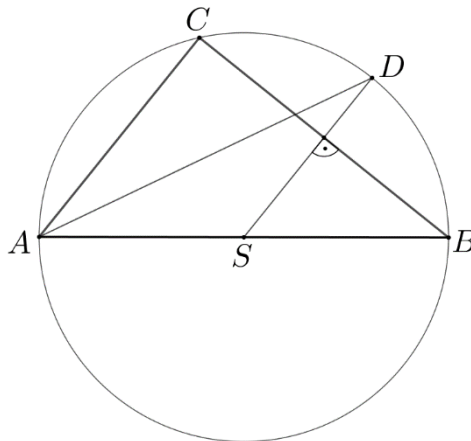
gdy przeprowadzi pełne rozumowanie.

Uwaga

Jeżeli zdający sprawdza prawdziwość nierówności jedynie dla wybranych wartości a i b , to otrzymuje **0 punktów** za całe rozwiązanie.

Zadanie 29. (0–2)

Bok AB jest średnicą, a punkt S jest środkiem okręgu opisanego na trójkącie ABC . Punkt D leży na tym okręgu, a prosta SD jest symetralną boku BC trójkąta (zobacz rysunek).



Wykaż, że odcinek AD jest zawarty w dwusiecznej kąta CAB .

Zadanie 29. (0–2)

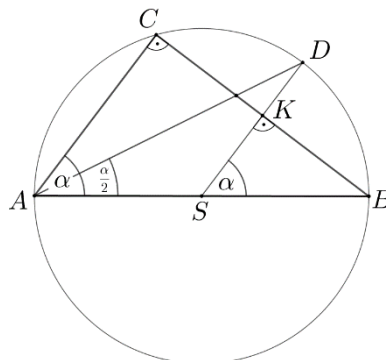
--	--

Rozwiązanie (I sposób)

Punkt D leży na symetralnej odcinka BC , zatem odcinki DC i DB mają równe długości. Stąd wynika, że łuki DC i DB mają równe długości. Kąty CAD i BAD są kątami wpisanymi w okrąg, opartymi na łukach równej długości. Zatem kąty te mają równe miary, czyli odcinek AD jest zawarty w dwusiecznej kąta CAB .

Rozwiązanie (II sposób)

Bok AB trójkąta jest średnicą okręgu, zatem trójkąt ABC jest prostokątny, a kąt BCA jest prosty. Oznaczmy przez K punkt przecięcia odcinków SD i BC .



Kąt BKS jest prosty, jako kąt wyznaczony przez symetralną odcinka BC . Kąt CBA jest wspólnym kątem wewnętrznym trójkątów ABC i SBK . Jako trójkąty prostokątne, mające wspólny kąt wewnętrzny, trójkąty ABC i SBK są trójkątami podobnymi.

Zatem kąt BSK ma miarę α . Stąd wynika, że kąt rozwarty ASK ma miarę $180^\circ - \alpha$.

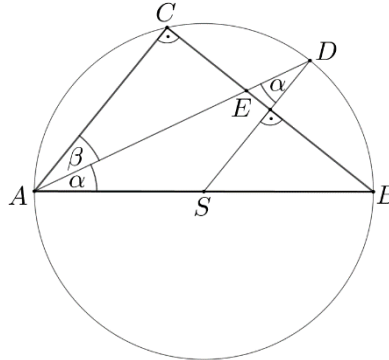
Kąt DAS , jako jeden z dwóch równych kątów w trójkącie równoramiennym ADS , ma miarę

$$\frac{180^\circ - (180^\circ - \alpha)}{2} = \frac{\alpha}{2}.$$

Zatem kąt DAS stanowi połowę kąta CAB , czyli odcinek AD jest dwusieczną kąta CAB .

Rozwiązanie (III sposób)

Niech $\alpha = |\sphericalangle BAD|$ i $\beta = |\sphericalangle CAD|$. Oznaczmy przez E punkt przecięcia odcinków AD i BC .



Trójkąt ASD jest równoramienny, więc $|\sphericalangle SAD| = |\sphericalangle SDA| = \alpha$.

Bok AB trójkąta ABC jest średnicą okręgu opisanego na tym trójkącie, zatem trójkąt ABC jest prostokątny, a kąt ACB jest prosty. Wobec tego proste AC i SD są równoległe. Stąd z kolei wynika, że kąty naprzemianległe SDA i CAD są równe, czyli $\alpha = \beta$. To kończy dowód,

Schemat oceniania I, II i III sposobu rozwiązania

Zdający otrzymuje 1 p.,
gdy

- skorzysta z faktu, że symetralna jest zbiorem punktów równoodległych od końców odcinka, którego jest symetralną i zapisze, że łuki BD i CD mają taką samą długość

albo

- uzasadni, że kąty ABC i BSD mają tę samą miarę

albo

- uzasadni, że proste AC i SD są równoległe

i na tym poprzestanie lub dalej popełnia błędy.

Zdający otrzymuje 2 p.,
gdy przeprowadzi pełne rozumowanie.

Zadanie 30. (0–2)

Dany jest trzywyrazowy ciąg $(x+2, 4x+2, x+11)$. Oblicz te wszystkie wartości x , dla których ciąg ten jest geometryczny.

Zadanie 30. (0–2)

--	--

Rozwiązanie (I sposób)

Z własności ciągu geometrycznego otrzymujemy równanie

$$\begin{aligned}(4x+2)^2 &= (x+2)(x+11), \\ 16x^2 + 16x + 4 &= x^2 + 13x + 22, \\ 15x^2 + 3x - 18 &= 0, \\ 5x^2 + x - 6 &= 0, \\ (x-1)(5x+6) &= 0, \\ x &= 1 \text{ lub } x = -\frac{6}{5}.\end{aligned}$$

Dla $x=1$ otrzymujemy ciąg $(3, 6, 12)$ geometryczny o ilorazie 2, zaś dla $x = -\frac{6}{5}$

otrzymujemy ciąg $(\frac{4}{5}, -\frac{14}{5}, \frac{49}{5})$ geometryczny o ilorazie $-\frac{7}{2}$.

Odp. Dla $x=1$ oraz dla $x = -\frac{6}{5}$ otrzymujemy ciąg geometryczny.

Rozwiązanie (II sposób)

Niech q oznacza iloraz ciągu geometrycznego. Wtedy ze wzoru na n -ty wyraz ciągu geometrycznego otrzymujemy układ równań

$$4x+2 = (x+2)q \text{ i } x+11 = (x+2)q^2.$$

Zauważmy, że dla $x = -2$ otrzymujemy ciąg $(0, -6, 9)$, który nie jest geometryczny. Zatem $x \neq -2$. Wtedy mamy

$$q = \frac{4x+2}{x+2} \text{ i } x+11 = (x+2) \cdot \left(\frac{4x+2}{x+2}\right)^2$$

Stąd

$$\begin{aligned}x+11 &= \frac{(4x+2)^2}{x+2}, \\ (x+2)(x+11) &= (4x+2)^2, \\ 16x^2 + 16x + 4 &= x^2 + 13x + 22, \\ 15x^2 + 3x - 18 &= 0, \\ 5x^2 + x - 6 &= 0, \\ (x-1)(5x+6) &= 0, \\ x &= 1 \text{ lub } x = -\frac{6}{5}.\end{aligned}$$

Dla $x=1$ otrzymujemy ciąg $(3, 6, 12)$ geometryczny o ilorazie 2, zaś dla $x = -\frac{6}{5}$

otrzymujemy ciąg $(\frac{4}{5}, -\frac{14}{5}, \frac{49}{5})$ geometryczny o ilorazie $-\frac{7}{2}$.

Odp. Dla $x=1$ oraz dla $x=-\frac{6}{5}$ otrzymujemy ciąg geometryczny.

Schemat oceniania rozwiązania

Zdający otrzymuje 1 p.
gdy zapisze

- równanie z niewiadomą x wynikające z własności ciągu geometrycznego, np.:

$$(4x+2)^2 = (x+2)(x+11)$$

albo

- układ dwóch równań z dwiema niewiadomymi, z których jedną z niewiadomych jest x , np.: $4x+2=(x+2)q$ i $x+11=(x+2)q^2$.

Zdający otrzymuje 2 p.

gdy obliczy wszystkie wartości x : $x=1$, $x=-\frac{6}{5}$.

Uwagi

1. Jeżeli zdający odgadnie jedną z szukanych wartości $x=1$ i zapisze dla tej wartości ciąg geometryczny $(3, 6, 12)$, to otrzymuje **1 punkt**.
2. Jeśli zdający zapisze warunek w postaci ilorazowej, ale nie zapisze warunków $x \neq -2$, $x \neq -\frac{1}{2}$ i rozwiąże zadanie do końca, to otrzymuje **2 punkty**.

Zadanie 31. (0–2)

Prosta k jest nachylona do osi Ox pod kątem ostrym α , takim, że $\cos \alpha = \frac{\sqrt{3}}{3}$. Wyznacz współczynnik kierunkowy tej prostej.

Rozwiązanie

Współczynnik kierunkowy prostej jest równy tangensowi kąta α nachylenia prostej k do osi Ox .

Korzystamy z jedynki trygonometrycznej i wyznaczamy $\sin \alpha$.

$$\cos^2 \alpha + \sin^2 \alpha = 1$$

$$\sin^2 \alpha = \frac{2}{3}$$

$$\sin \alpha = \frac{\sqrt{6}}{3} \text{ lub } \sin \alpha = -\frac{\sqrt{6}}{3}$$

Ponieważ z założenia α jest kątem ostrym, więc $\sin \alpha = \frac{\sqrt{6}}{3}$.

$$\text{Zatem } \operatorname{tg} \alpha = \frac{\sqrt{6}}{3} \cdot \left(\frac{3}{\sqrt{3}} \right) = \sqrt{2}.$$

Współczynnik kierunkowy prostej k jest równy $\sqrt{2}$.

Schemat oceniania

Zdający otrzymuje **1 p.**

gdy wyznaczy $\sin \alpha = \frac{\sqrt{6}}{3}$ i na tym poprzestanie lub dalej popełni błędy.

Zdający otrzymuje **2 p.**

gdy wyznaczy współczynnik kierunkowy prostej $k: (\sqrt{2})$.

Uwaga

Akceptujemy rozwiązania na przybliżeniach.

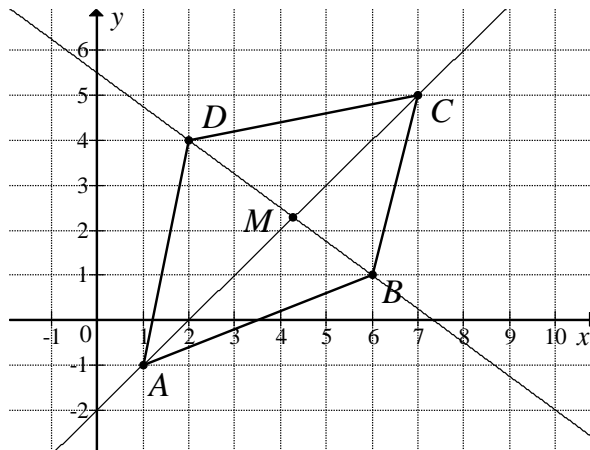
Zadanie 31. (0–2)

--	--

Zadanie 32. (0–4)

Punkty $A = (1, -1)$, $B = (6, 1)$, $C = (7, 5)$ i $D = (2, 4)$ są wierzchołkami czworokąta $ABCD$.
Oblicz współrzędne punktu przecięcia przekątnych tego czworokąta.

Rozwiązanie



Niech M oznacza punkt przecięcia przekątnych czworokąta $ABCD$.
Współczynnik kierunkowy prostej BD jest równy

$$a_{BD} = \frac{4-1}{2-6} = -\frac{3}{4}.$$

Punkt D należy do prostej BD o równaniu $y = -\frac{3}{4}x + b$.

$$\text{Zatem } 4 = -\frac{3}{4} \cdot 2 + b.$$

$$\text{Czyli } b = \frac{11}{2}.$$

Prosta BD ma równanie:

$$y = -\frac{3}{4}x + \frac{11}{2}.$$

Współczynnik kierunkowy prostej AC jest równy

$$a_{AC} = \frac{5+1}{7-1} = 1.$$

Punkt A należy do prostej AC o równaniu $y = x + b$.

Zatem $-1 = 1 + b$.

Czyli $b = -2$.

Prosta AC ma równanie:

$$y = x - 2.$$

Punkt M jest punktem przecięcia prostych AC i BD , więc jego współrzędne obliczymy, rozwiązując układ równań

$$y = x - 2 \text{ i } y = -\frac{3}{4}x + \frac{11}{2}.$$

Stąd otrzymujemy

$$x - 2 = -\frac{3}{4}x + \frac{11}{2},$$

$$\frac{7}{4}x = \frac{15}{2},$$

$$x = \frac{30}{7} = 4\frac{2}{7}.$$

Zatem $y = 4\frac{2}{7} - 2 = 2\frac{2}{7}$, czyli $M = (4\frac{2}{7}, 2\frac{2}{7})$.

Schemat oceniania

Rozwiązanie, w którym postęp jest niewielki, ale konieczny na drodze do pełnego rozwiązania 1 p.

Zdający

- obliczy lub poda współczynnik kierunkowy prostej BD : $a = -\frac{3}{4}$

albo

- obliczy lub poda współczynnik kierunkowy prostej AC : $a_1 = 1$

i na tym poprzestanie lub dalej popełnia błędy.

Rozwiązanie, w którym jest istotny postęp 2 p.

Zdający

- zapisze równanie prostej BD , np.: $y = -\frac{3}{4}x + \frac{11}{2}$

albo

- zapisze równanie prostej AC , np.: $y = x - 2$

i na tym poprzestanie lub dalej popełnia błędy.

Pokonanie zasadniczych trudności zadania 3 p.

Zdający zapisze równanie prostej BD i równanie prostej AC , np.:

$$y = x - 2 \text{ i } y = -\frac{3}{4}x + \frac{11}{2}.$$

Rozwiązanie pełne 4 p.

Zdający obliczy współrzędne punktu przecięcia przekątnych czworokąta: $M = (4\frac{2}{7}, 2\frac{2}{7})$.

Uwaga

Jeżeli zdający realizuje strategię rozwiązania i popełnia jedynie błędy rachunkowe, to może otrzymać **3 punkty**, o ile popełnione błędy nie ułatwiają rozważanego zagadnienia na żadnym etapie rozwiązania.

Zadanie 32. (0–4)

--	--

Zadanie 33. (0–4)

Rzucamy 4 razy symetryczną monetą. Oblicz prawdopodobieństwo zdarzenia A , polegającego na tym, że liczba otrzymanych orłów będzie różna od liczby otrzymanych reszek.

Rozwiązanie

Sposób I

Zdarzeniami elementarnymi są wszystkie czterowyrazowe ciągi utworzone ze zbioru dwuelementowego.

$$\Omega = \{(o, o, o, o), (r, o, o, o), (o, r, o, o), (o, o, r, o), \\ (o, o, o, r), (r, r, o, o), (r, o, r, o), (r, o, o, r), \\ (o, r, r, o), (o, r, o, r), (o, o, r, r), (r, r, r, o), \\ (r, r, o, r), (r, o, r, r), (o, r, r, r), (r, r, r, r)\}$$

Liczba wszystkich zdarzeń elementarnych jest równa 16.

Zdarzeniu A sprzyjają następujące zdarzenia elementarne:

$$(o, o, o, o), (r, o, o, o), (o, r, o, o), (o, o, r, o), (o, o, o, r), \\ (r, r, r, o), (r, r, o, r), (r, o, r, r), (o, r, r, r), (r, r, r, r)$$

$$\text{Zatem } |A| = 10 \text{ i stąd } P(A) = \frac{10}{16} = \frac{5}{8}.$$

Sposób II

Zdarzeniami elementarnymi są wszystkie czterowyrazowe ciągi utworzone ze zbioru dwuelementowego.

$$\Omega = \{(o, o, o, o), (r, o, o, o), (o, r, o, o), (o, o, r, o), \\ (o, o, o, r), (r, r, o, o), (r, o, r, o), (r, o, o, r), \\ (o, r, r, o), (o, r, o, r), (o, o, r, r), (r, r, r, o), \\ (r, r, o, r), (r, o, r, r), (o, r, r, r), (r, r, r, r)\}$$

Liczba wszystkich zdarzeń elementarnych jest równa 16.

Zdarzenie A' polega na wyrzuceniu tej samej liczby orłów i reszek, zatem sprzyjają mu następujące zdarzenia elementarne:

$(o, o, r, r), (r, r, o, o), (o, r, o, r), (r, o, r, o), (r, o, o, r), (o, r, r, o)$.

Zatem $|A'| = 10$ i stąd $P(A) = 1 - P(A') = 1 - \frac{6}{16} = \frac{5}{8}$.

Uwaga

Zbiory: Ω , A i A' mogą być zapisane za pomocą drzewa.

Schemat oceniania

Rozwiązanie, w którym postęp jest niewielki, ale konieczny na drodze do pełnego rozwiązania 1 p.

Zdający

- obliczy liczbę wszystkich zdarzeń elementarnych $|\Omega| = 16$
albo
- narysuje pełne drzewo z 16 gałęziami
albo
- wypisze wszystkie zdarzenia elementarne lub wszystkie zdarzenia elementarne sprzyjające zdarzeniu A lub wszystkie zdarzenia elementarne sprzyjające zdarzeniu A'
albo

i na tym zakończy lub dalej popełnia błędy.

Rozwiązanie, w którym jest istotny postęp 2 p.

Zdający

- obliczy liczbę wszystkich zdarzeń elementarnych $|\Omega| = 16$ oraz obliczy liczbę wszystkich zdarzeń elementarnych w których liczba orłów jest większa od liczby reszek
albo
- obliczy liczbę wszystkich zdarzeń elementarnych $|\Omega| = 16$ oraz obliczy liczbę wszystkich zdarzeń elementarnych w których liczba orłów jest mniejsza od liczby reszek
albo
- obliczy liczbę wszystkich zdarzeń elementarnych, w których liczba orłów jest różna od liczby reszek $|A| = 10$
albo
- obliczy liczbę wszystkich zdarzeń elementarnych oraz liczbę zdarzeń sprzyjających zdarzeniu przeciwnemu ($|\Omega| = 16$, $|A'| = 6$)
albo
- zaznaczy na drzewie 10 gałęzi ilustrujących zdarzenie A lub 6 gałęzi ilustrujących zdarzenie A' .

i na tym zakończy lub dalej popełnia błędy.

Pokonanie zasadniczych trudności zadania 3 p.

- Zdający obliczy liczbę wszystkich zdarzeń elementarnych $|\Omega| = 16$ oraz obliczy liczbę wszystkich zdarzeń elementarnych, w których liczba orłów jest różna od liczby reszek $|A| = 10$
albo

- zaznaczy na drzewie 10 gałęzi ilustrujących zdarzenie A lub 6 gałęzi ilustrujących zdarzenie przeciwne oraz na co najmniej jednej gałęzi każdego etapu zaznaczy prawdopodobieństwo $\frac{1}{2}$
albo
- obliczy prawdopodobieństwo zdarzenia przeciwnego $P(A') = \frac{3}{8}$

Rozwiązanie pełne 4 p.

Zdający obliczy prawdopodobieństwo zdarzenia A : $P(A) = \frac{5}{8}$.

Uwagi

1. Jeżeli zdający pomija przypadki (o, o, o, o) lub (r, r, r, r) , to może otrzymać co najwyżej **2 punkty**.

2. Jeżeli zdający obliczy $|\Omega| = 16$ i pominie jedno zdarzenie elementarne sprzyjające zdarzeniu A i nie wypisze niepoprawnego zdarzenia oraz rozwiąże zadanie do końca, to może otrzymać co najwyżej **2 punkty**.

3. Jeżeli zdający zapisze tylko $|\Omega| = 16$, $|A| = 10$, $P(A) = \frac{5}{8}$ bez uzasadnienia, to otrzymuje **1 punkt**.

Zadanie 33. (0–4)

--	--

Zadanie 34. (0–5)

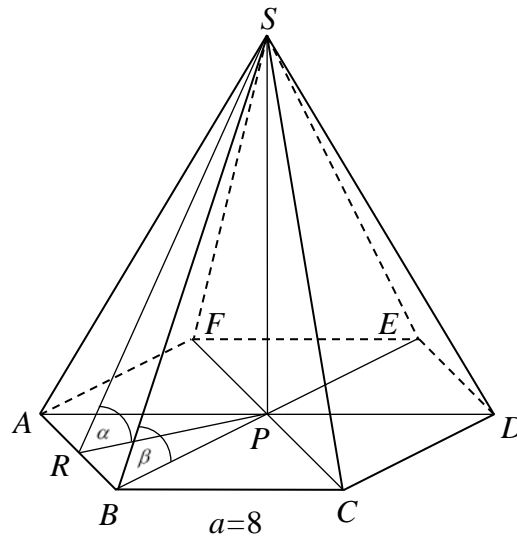
W ostrosłupie prawidłowym sześciokątnym, którego krawędź podstawy ma długość 8, ściana boczna jest nachylona do płaszczyzny podstawy po kątem $\alpha = 60^\circ$. Oblicz cosinus kąta między krawędzią boczną a płaszczyzną podstawy tego ostrosłupa.

Zadanie 34. (0–5)

--	--

Rozwiązanie

Wprowadzamy oznaczenia jak na rysunku.



Odcinek PR jest wysokością trójkąta równobocznego o boku $a = 8$, zatem

$$|PR| = \frac{a\sqrt{3}}{2} = \frac{8\sqrt{3}}{2} = 4\sqrt{3}.$$

Z trójkąta prostokątnego SPR , w którym kąty mają miary 90° , 60° , 30° , obliczamy długość odcinka SR , np. $\frac{|PR|}{|SR|} = \cos 60^\circ$. Zatem $|SR| = 8\sqrt{3}$.

Z twierdzenia Pitagorasa dla trójkąta SRB , który jest prostokątny, obliczamy długość krawędzi bocznej.

$$|SB|^2 = |SR|^2 + |RB|^2$$

$$|SB|^2 = (8\sqrt{3})^2 + 4^2$$

$$|SB|^2 = 192 + 16$$

$$|SB|^2 = 208$$

$$\text{Zatem } |SB| = \sqrt{208} = 4\sqrt{13}$$

Z trójkąta SPB , który jest prostokątny, otrzymujemy $\cos \beta = \frac{|BP|}{|SB|} = \frac{8}{4\sqrt{13}} = \frac{2\sqrt{13}}{13}$.

Schemat oceniania

Rozwiązanie, w którym postęp jest niewielki, ale konieczny na drodze do pełnego rozwiązania 1 p.

Zdający

- prawidłowo zaznaczy na rysunku kąt nachylenia ściany bocznej do płaszczyzny podstawy

albo

- obliczy długość odcinka $|PR| = \frac{a\sqrt{3}}{2} = \frac{8\sqrt{3}}{2} = 4\sqrt{3}$.

Rozwiązanie, w którym jest istotny postęp 2 p.

Zdający

- obliczy wysokość ściany bocznej (długość odcinka SR , np. $\frac{|PR|}{|SR|} = \cos 60^\circ$):

$$|SR| = 8\sqrt{3}$$

albo

- obliczy wysokość ostrosłupa (długość odcinka SP , np. $\frac{|SP|}{|RP|} = \operatorname{tg} 60^\circ$): $|SP| = 12$

i na tym zakończy lub dalej dopełni błędy.

Pokonanie zasadniczych trudności zadania 3 p.

Zdający

- obliczy długość krawędzi bocznej ostrosłupa $|SB| = \sqrt{208} = 4\sqrt{13}$

albo

- zapisze, że $\operatorname{tg} \beta = \frac{\sqrt{1 - \cos^2 \beta}}{\cos \beta}$, gdzie β jest kątem między krawędzią boczną i płaszczyzną podstawy

i na tym zakończy lub dalej dopełni błędy.

Zdający obliczy długość krawędzi bocznej ostrosłupa $|SB| = \sqrt{208} = 4\sqrt{13}$.

Rozwiązanie pełne, ale z usterkami 4 p.

Rozwiązanie pełne 5 p

Zdający

- zaznaczy kąt między krawędzią boczną a płaszczyzną podstawy i obliczy cosinus tego

$$\text{kąta } \cos \beta = \frac{2\sqrt{13}}{13}$$

albo

- prawidłowo opíše stosunek odpowiednich boków w trójkącie $\triangle SPB$, $\cos \beta = \frac{|BP|}{|SB|} =$

$$\frac{8}{4\sqrt{13}} = \frac{2\sqrt{13}}{13}.$$

Uwaga

Jeżeli uczeń rozważa graniastosłup lub w ostrosłupie błędnie interpretuje kąty otrzymuje **0 punktów**.

